

PRUEBAS DE ACCESO A CICLOS FORMATIVOS DE GRADO SUPERIOR

Convocatoria de mayo de 2024 (Resolución 3/2024, de 8 de febrero de 2024, BOR n°34)

OPCIÓN: HUMANIDADES Y CIENCIAS SOCIALES	DOS MATERIAS DE LA OPCIÓN: - Tecnología de la Información y de la Comunicación - Economía de la Empresa - Psicología - Geografía	GEOGRAFÍA
--	---	------------------

DATOS DEL/DE LA ASPIRANTE	CALIFICACIÓN
Apellidos: ----- Nombre: ----- DNI: ----- IES: -----	

INSTRUCCIONES GENERALES

- Mantenga su DNI en lugar visible durante la realización del ejercicio.
 - Lea detenidamente los enunciados antes de responder.
 - Realice primero aquellos ejercicios que tenga seguridad en su resolución. Deje para el final aquellos que tenga dudas.
 - Cuide la presentación y escriba la solución de forma ordenada.
 - Puede utilizar calculadora no programable.
 - Entregue esta hoja cuando finalice el ejercicio.
 - Al finalizar el ejercicio enumerar las hojas y firmar en la última.
- Realización:**
- La duración del ejercicio es de dos horas: de 16:45 a 18:45 horas.

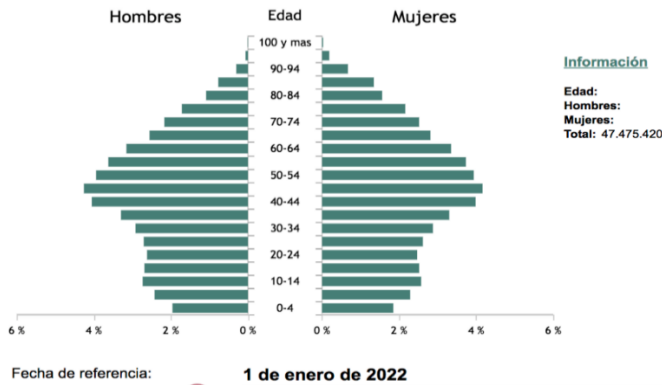
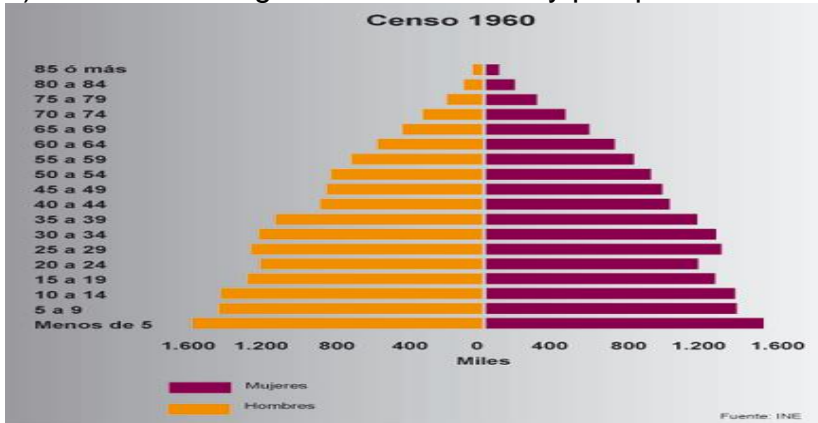
CRITERIOS DE CALIFICACIÓN:

El ejercicio se valora sobre un total de 10 puntos. La pregunta 1 vale 4 puntos. La 2 y la 3 valen dos puntos. La 4 y la 5 valen 1 punto. Se valorará la corrección expositiva, el orden y la claridad en la redacción. Se tendrán en cuenta las incorrecciones ortográficas-descontándose 0.1 puntos por cada falta de ortografía hasta un máximo de 1 punto. Se valorará muy positivamente la precisión terminológica y la riqueza de vocabulario. En los temas y preguntas prácticas se primará la deducción y argumentación razonadas.

1) TEMA (4 PUNTOS): Describe el concepto de ciudad. La morfología y estructuras urbanas.

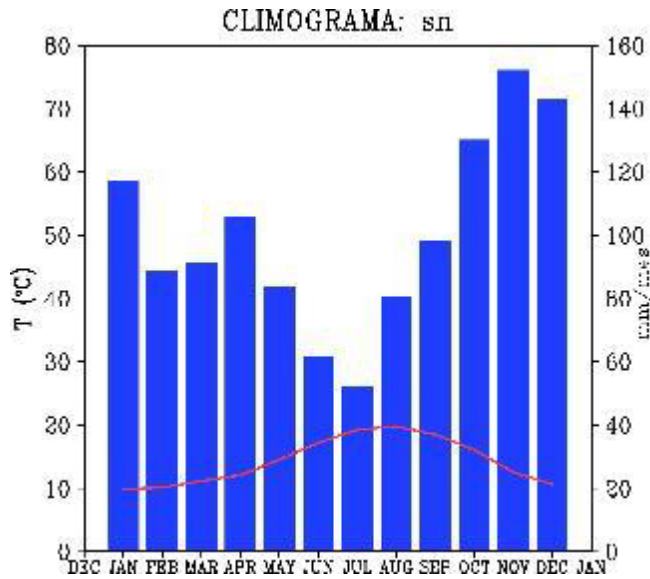
2) EJERCICIO PRÁCTICO 1 (2 PUNTOS): Compara las siguientes pirámides de población atendiendo a las siguientes cuestiones:

- a) Forma de cada una y explicación del motivo
- b) Comentario de la estructura por sexo
- c) Comentario de la estructura por edad
- d) Sucesos demográficos destacados y perspectivas de futuro



3) EJERCICIO PRÁCTICO 2 (2 PUNTOS) Comenta este climograma de una ciudad española. Explica las características del clima atendiendo a las temperaturas y precipitaciones y su distribución. Explica también el paisaje natural asociado a este climograma.

Temperatura media anual: 14 °. Precipitación media anual : 1198mm



4) DEFINICIONES (1 PUNTO): Define con claridad y precisión cuatro de los siguientes conceptos:

Cliserie, Desertificación, Vertiente hidrográfica, Éxodo rural, Dehesa, modelado cástico.

5) MAPA (1 PUNTO): Indica las provincias que comprende el segmento desde el Principado de Asturias a Cádiz.

