



PROVA D'ACCÉS A GRAU SUPERIOR

Convocatòria de 2021

VERSIÓ CATALANA_NOA

INSTRUCCIONS DE LA PROVA

- Disposau d'**1 hora i 30 minuts** per fer la prova.
- L'examen s'ha de presentar escrit **amb tinta blava o negra**, no a llapis.
- **No** es poden usar **telèfons mòbils** ni **aparells electrònics**.
- **No** es pot entrar a l'examen amb **textos o documents escrits**.
- Les **errades ortogràfiques** descomptaran fins a **2 punts**.

DADES PERSONALS DE L'ALUMNE/A

Nom: _____

Llinatges: _____

DNI / NIE:

--	--	--	--	--	--	--	--	--

Qualificació:

--

Signatura de l'alumne/a:

--

Bona sort!

1. Contesta les preguntes següents:



a) Digues el nom de totes les províncies del litoral mediterrani des de Girona fins a Cadis. (0,5 punts)

b) Situa les províncies on es troben les capitals d'Extremadura (posa E), Galícia (G) i el País Basc (PB). (0,3 punts)

c) Situa les províncies de Toledo (T) i Segovia (S). (0,2 punts)

2. Contesta les preguntes següents:

a) Quin és el sistema polític actual d'Espanya? (0,2 punts)

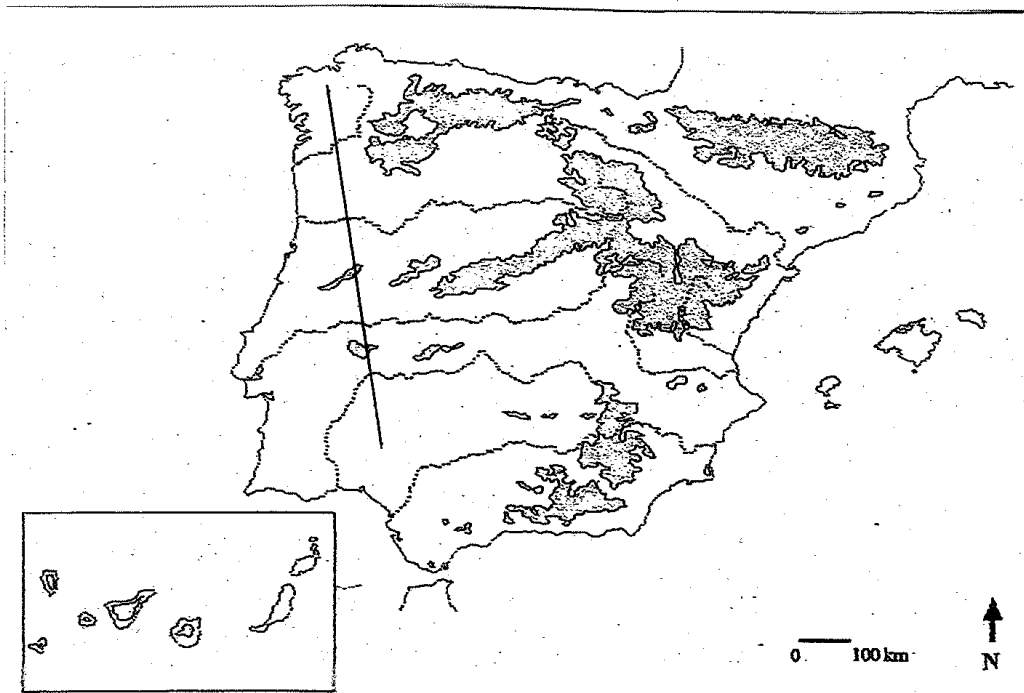
b) Quin any es va aprovar l'actual Constitució? (0,2 punts)

c) Quin any es va aprovar l'Estatut d'Autonomia de les Illes Balears? (0,2 punts)

d) Digues el nom del primer president constitucional espanyol des de la fi de la Dictadura. (0,2 punts)

e) Com es diu l'actual president espanyol? (0,2 punts)

3. Contesta les preguntes següents:



a) Posa sobre el mapa el nom dels rius que desemboquen al Mediterrani. (0,4 punts)

b) Posa el nom i localitza correctament la serralada que divideix la Meseta. (0,2 punts)

c) Anomena de nord a sud els rius que travessa la línia dibuixada al mapa. (0,4 punts)

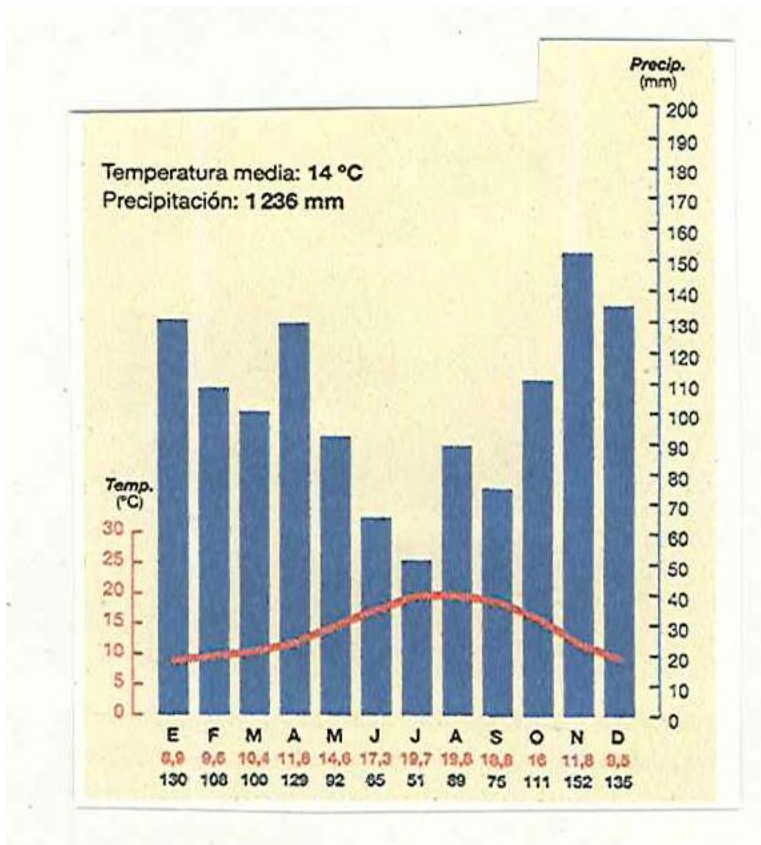
4. Contesta les preguntes sobre la Unió Europea:



- a) Posa al mapa el nom dels 6 països fundadors de la CEE el 1957. (0,6 punts)

- b) Digues quin són els països que entraren a la CEE abans que Espanya i Portugal (1986), és a dir, entre 1958 i 1985. (0,4 punts)

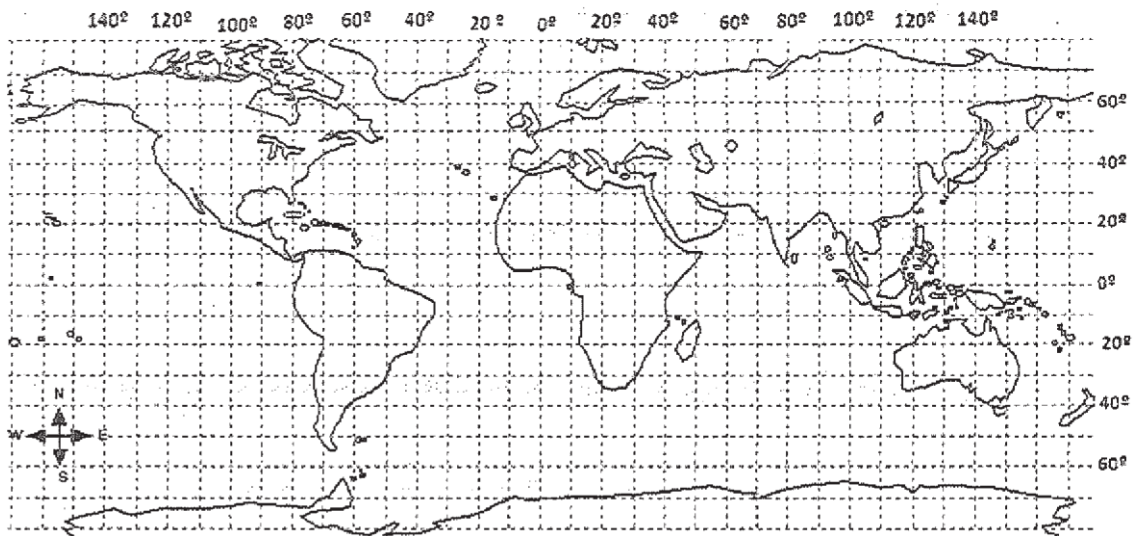
5. Contesta les preguntes següents sobre el climograma:



a) A quin tipus de clima pertany? (0,3 punts)

b) Explica les característiques termopluriomètriques que té aquest clima. (0,7 punts)

6. Les coordenades geogràfiques ens permeten localitzar un punt sobre la superfície terrestre.



- a) Defineix què és un paral·lel. (0,3 punts)

- b) Assenya el paral·lel 0 sobre el planisferi. (0,1 punts)


- c) Quin nom rep aquest paral·lel? (0,1 punts)

- d) Defineix el concepte de *meridià*. (0,3 punts)

- e) Assenya el meridià 0 sobre el planisferi. (0,1 punts)

- f) Indica el nom del meridià 0. (0,1 punts)

7. Interpreta les dades del volum dels passatgers dels aeroports espanyols.


 Dirección de Operaciones, Seguridad y Servicios
 Departamento de Estadísticas

Aeropuertos	PASAJEROS	
	Total	% Inc 2018 /n 2017
ADOLFO SUÁREZ MADRID-BARAJAS	57.890.057	8,4%
BARCELONA-EL PRAT J.T.	50.172.689	6,1%
PALMA DE MALLORCA	29.081.446	4,0%
MÁLAGA-COSTA DEL SOL	19.021.779	2,1%
ALICANTE-ELCHE	13.981.691	2,0%
GRAN CANARIA	13.573.304	3,7%
TENERIFE SUR	11.042.412	-1,8%
IBIZA	8.104.453	2,5%
VALENCIA	7.769.904	15,2%
LANZAROTE CÉSAR MANRIQUE	7.327.129	-0,8%
SEVILLA	6.380.483	24,9%
FUERTEVENTURA	6.118.840	1,1%
TENERIFE NORTE	5.492.324	16,7%
BILBAO	5.489.406	10,0%
MENORCA	3.442.742	0,2%
SANTIAGO	2.726.457	3,1%
GIRONA	2.020.138	3,8%
LA PALMA	1.420.277	9,0%
ASTURIAS	1.400.438	-0,5%
MURCIA-SAN JAVIER	1.273.774	6,5%
A CORUÑA	1.225.754	7,4%
JEREZ DE LA FRONTERA	1.134.341	8,4%
VIGO	1.129.885	6,0%
FGL GRANADA-JAEN	1.126.417	24,9%
SEVE BALLESTEROS-SANTANDER	1.103.353	17,7%
REUS	1.037.765	1,9%
ALMERIA	991.992	-1,5%
ZARAGOZA	489.064	11,6%
MELILLA	348.129	7,3%
SAN SEBASTIAN	289.440	2,7%
VALLADOLID	253.111	11,4%
EL HIERRO	247.204	24,0%
PAMPLONA	205.505	24,1%
VITORIA	140.903	67,2%
LA GOMERA	61.943	27,2%
LEON	55.756	26,0%
CEUTA /HELIPUERTO	52.180	192,8%
BADAJOS	52.068	5,6%
ALGECIRAS /HELIPUERTO	31.224	195,4%
LOGROÑO	21.381	6,9%
SALAMANCA	14.646	-2,6%
BURGOS	10.341	73,7%
CORDOBA	8.254	2,4%
SABADELL	4.540	-0,1%
SON BONET	3.425	58,6%
MADRID-CUATRO VIENTOS	3.351	0,3%
HUESCA-PIRINEOS	1.473	473,2%
ALBACETE	1.295	-6,2%
Total	263.754.357	5,8%

Todos los datos son sobre el total.
 - Sin tráfico el año anterior

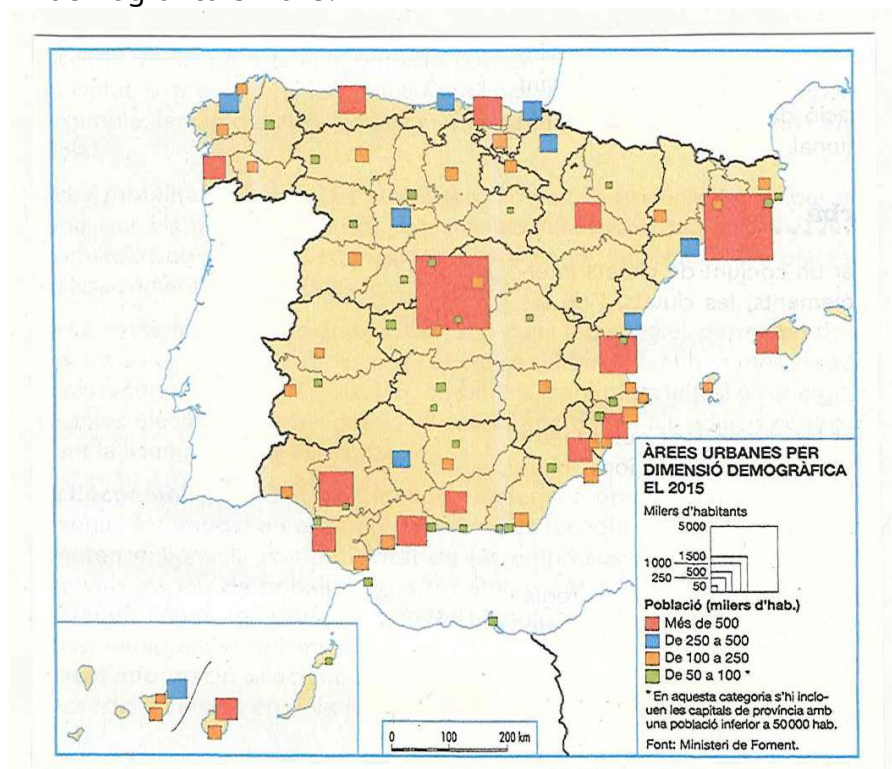
a) Quants aeroports acaparen més del 10 % del volum total de passatgers?
 Quins són? (0,4 punts)

b) Dels 10 aeroports principals, quants estan ubicats en una illa? (0,1 punts)

c) Indica el nom d'aquests aeroports. (0,25 punts)

d) Explica les causes de la posició dels tres principals aeroports espanyols. (0,25 punts)

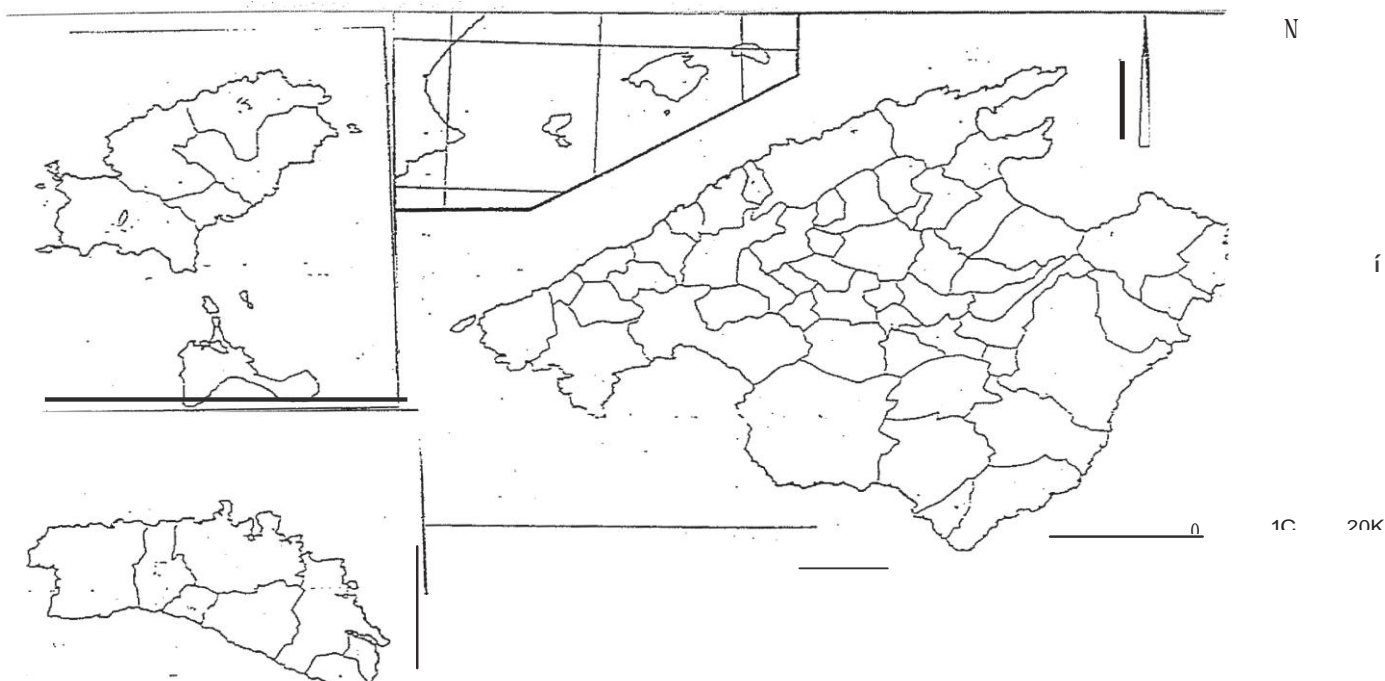
8. El mapa reflecteix les àrees urbanes espanyoles segons la seva dimensió demogràfica el 2015.



a) Sense comptar Madrid i Barcelona, digues el nom de cinc àrees urbanes espanyoles que tenen més de 500.000 habitants. (0,5 punts)

b) Explica els diferents criteris per definir el conceptes de *ciutat*. (0,5 punts)

9. Contesta les preguntes sobre les Illes Balears:



a) Situa al mapa la badia d'Alcúdia, el port de Maó i la badia de Sant Antoni de Portmany. (0,3 punts)

b) Situa al mapa els municipis següents: Palma, Ciutadella de Menorca, Eivissa i Formentera. (0,4 punts)

c) Situa els caps següents: Formentor, Cavalleria i Ses Salines. (0,3 punts)

10. L'estadística que tens reflecteix, segons dades de l'INE, quins són els factors que expliquen l'actual descens de la natalitat.

Factors del descens actual de la natalitat				
	Edat del matrimoni		Edat mitjana de la maternitat	Percentatge de fills nascuts de mare no casada
	Homes	Dones		
1975	27,4	24,5	28,8	2,0
1980	26,8	24,1	28,2	3,9
1985	28,2	25,3	28,4	8,0
1990	28,9	26,2	28,8	9,6
1995	30,5	27,8	30,0	11,1
2000	31,5	28,9	30,7	17,7
2005	33,5	30,5	30,9	26,7
2010	35,7	32,6	31,2	35,5
2014	36,9	33,9	31,8	40,8 (2013)

Font: INE.

a) Explica quins canvis de mentalitat i valors ha experimentat la societat espanyola des de la transició a la democràcia que han contribuït a fer baixar la natalitat. (0,5 punts)

b) Explica la transició demogràfica del segle XX fent especial esment als cicles demogràfics (antic, de transició i modern) quant a natalitat, mortalitat i creixement natural. (0,5 punts)